




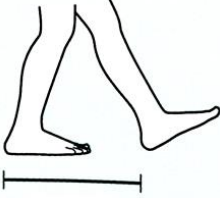



「實測與估測」

學習單

號 姓 名 :

身體部份測量的名稱：

			
<p>Ⓐ 指寬 ()公分</p>	<p>Ⓑ 掌幅 ()公分</p>	<p>Ⓒ 指距 ()公分</p>	<p>Ⓓ 一吋 ()公分</p>
			
<p>Ⓔ 腳長 ()公分</p>	<p>Ⓕ 步長 ()公分</p>	<p>Ⓖ 一丈 ()公分</p>	

請利用你的身體部位估測底下物件的長度。

物件	估測代號 (填A B C D E F G)	估測 (請圈選單位)	實測 (請圈選單位)
眼睛的寬度		公尺 公分	公尺 公分
嘴巴的寬度		公尺 公分	公尺 公分
頭的長度		公尺 公分	公尺 公分
地板方塊寬度		公尺 公分	公尺 公分
走廊的寬度		公尺 公分	公尺 公分
教室的長度		公尺 公分	公尺 公分